

Les tables de valeurs et les diagrammes

Nom: _____

Pour chaque série de figures, trouver la règle, continuer la suite pour compléter la table de valeurs et représenter l'information dans un diagramme.

1.) Figure 1



Figure 2



Figure 3






Figure 4



La règle qui unit les nombres d'entrées et les nombres de sorties est:

Entrée (Figure)	Sortie (Étoiles)



2.) Trouver le règle, puis compléter la table de valeurs et le diagramme.

Figure 1




Figure 2




Figure 3





Figure 4



La règle qui unit les nombres d'entrées et les nombres de sorties est:

Entrée (Figure)	Sortie (visages)

